

中原大學推廣教育處辦理桃園市政府勞工學苑

財務與金融科技人才培訓班-甄試筆試測驗 **答案** 測驗日期：10/5

試題疑義申請查詢及成績複查請於 10/8 12:00 前致電 03-2651321 許小姐

1	2	3	4	5
B	B	D	A	C
6	7	8	9	10
D	B	B	D	B
11	12	13	14	15
A	B	C	A	A
16	17	18	19	20
C	C	B	A	D
21	22	23	24	25
D	B	C	B	D
26	27	28	29	30
D	A	A	D	C

邏輯測驗(20 題)

(1)~(8)請選出多餘的單字

- () 1. 不到達黃河心不死 (A) 到 (B) 達 (C) 黃 (D) 心
- () 2. 屏選孔中雀 (A) 雀 (B) 孔 (C) 選 (D) 中
- () 3. 將天大任於降責人也斯 (A) 降 (B) 將 (C) 斯 (D) 責
- () 4. 炮歲除一鞭聲舊竹 (A) 鞭 (B) 竹 (C) 除 (D) 歲
- () 5. 花明暗又一柳村樹 (A) 暗 (B) 柳 (C) 樹 (D) 一
- () 6. 小聰明反被聰明誤 (A) 聰 (B) 誤 (C) 被 (D) 小
- () 7. 秉遊燭夜蠟 (A) 遊 (B) 蠟 (C) 夜 (D) 秉
- () 8. 山不在高，有仙則名；水不在深，有龍珠則靈 (A) 仙 (B) 珠 (C) 靈 (D) 名
- () 9. $6+3\times 5=?$ (A) 8 (B) 45 (C) 9 (D) 21
- () 10. 2、4、6、8、?、12 請問?是 (A) 17 (B) 10 (C) 8 (D) 6
- () 11. _____之於耳朵，好像影像之於 _____
(A)聲音…眼睛(B)聲音…雙手(C)味道…眼睛(D)味道…聲音
- () 12. 等腰三角形中，相等的兩個角叫作什麼？
(A)頂角(B)底角(C)平角(D)周角
- () 13. 將一繩子剪去 10 公尺後，剩下的部分再均分成 9 段，每一段恰好為 0.3 公尺，則請問此繩子原長為多少公尺？
(A) 10.7 (B) 11.7 (C) 12.7 (D) 13.7 公尺
- () 14. 小華想買一台數位相數，他分別到大賣場及百貨公司去詢問價格；發現相同一件商品，百貨公司售價為定價先打 9 折，會員優待再打 85 折；而大賣場則先依定價減價 20%為售價，會員再優待 9 折，則小華應該到那一家買比較划算？
(A)大賣場(B)百貨公司(C)都一樣(D)以上皆非
- () 15. 有一個籠子裡面同時養著雞跟兔子，雞跟兔子的頭加起來總共有 30 顆，牠們的腳總共有 94 隻腳，請問籠子裡面有幾隻雞？ (A) 13 (B) 25 (C) 5 (D) 20 隻
- () 16. 小美今年的年紀和老公來福年紀之和為 63 歲，小美年紀為來福的 $\frac{3}{4}$ 倍，則請問兩人的年紀相差幾歲？(A)7 (B)8 (C)9 (D)10 歲
- () 17. 小勇在沙漠中迷路，目前身邊只有比例尺 1:1,000,000 的地圖可參考而已；若地圖上東北方 3 公分距離有綠洲可獲救，則他實際上應該向東北方再走多少距離？
(A)0.3 (B)3 (C)30 (D)300 公里
- () 18. 嘈嘈切切錯雜彈，_____。(A) 小弦切切如私語 (B) 大珠小珠落玉盤
(C) 唯見江心秋月白 (D) 大弦嘈嘈如急雨

- () 19. 總為浮雲能蔽日，_____。(A) 長安不見使人愁 (B) 鳳去台空江自留
(C) 千里江陵一日還 (D) 唯見長江天際流
- () 20. 明月幾時有?把酒問青天。_____ (A) 人有悲歡離合，月有陰晴圓缺 (B) 但願人長久，千里共嬋娟。(C) 舞弄清影，何似在人間! (D) 不知天上宮闕，今夕是何年。

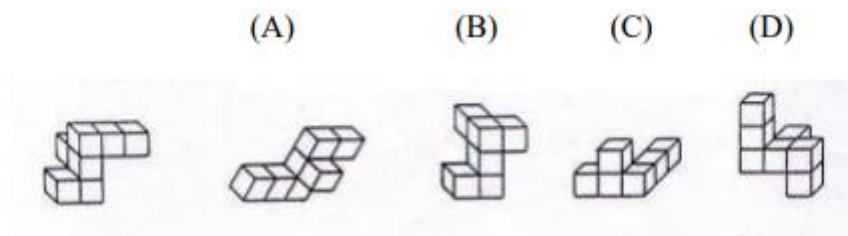
基礎題(5題)請選出最適當答案

- () 21. 以下何者不是財務分析的功能 a. 協助投資人評估公司價值 b. 協助經營者藉以改善公司經營 c. 協助部門主管加強生產力 d. 協助大股東炒股
- () 22. 以下那項產品是所謂的衍生性金融商品 a. 銀行存款 b. 期貨與選擇權 c. 股票 d. 外匯
- () 23. 下列何者是巴菲特的投資哲學? a. 強大的技術分析技術 b. 聯合索羅斯放空 c. 評估公司價值，尋求股價低估的價值分析 d. 期貨放空配合大舉賣出股票
- () 24. 財務分析可以發揮下列哪項功能? a. 發現股票的最佳買點 b. 協助管理者找出損益平衡點 c. 協助管理者將公司經營到全球前十大 d. 發現股票最佳賣點
- () 25. 關於衍生性金融商品的功能，下列何者為是? a. 發現價格 b. 投機功能 c. 避險功能 d. 以上皆是

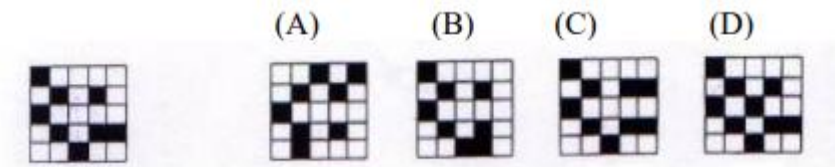
推理(5題)

以下會有 5 道題目，請依照題目敘述作答。

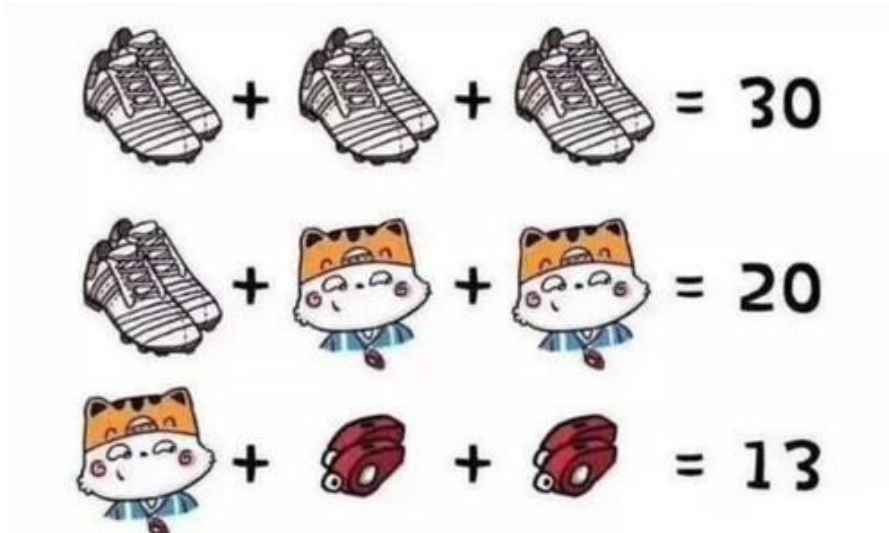
- () 26. 請在 1~2 題的右側選項之中，選擇一個與左側標準圖相同的圖形。



- () 27.



() 28. 以下有簡單的算術題目，



請問鞋子+貓咪乘以口哨為多少？

- (A)30 (B)20 (C)54 (D)53



題請根據前幾張圖，選出空缺圖的樣子。

() 29.



() 30.

